

平成 22 年度 中等部社会入試問題 出題構成の変更について

平成 21 年 9 月

神村学園中等部社会科

7 月 31 日、平成 22 年度より導入する社会科の中等部入試について、出題方針を発表しましたが、入試問題の検討を重ねた結果、出題構成を下記のように変更することになりました。御理解のほど、よろしくお願いいたします。

記

- 【変更前】 大問 1 小問雑題集合
大問 2 地理・歴史分野
大問 3 公民分野（時事問題も含む）
大問 4 総合問題（図やグラフの読み取りを含む）



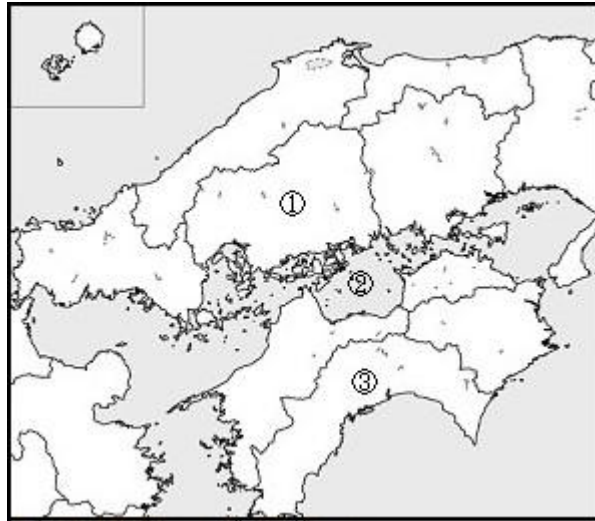
- 【変更後】 **大問 1 基礎的問題（小問集合）**
大問 2 地理分野
大問 3 歴史分野
大問 4 公民分野（時事問題を含む）

当初、「大問 4 総合問題」での出題を予定していた図やグラフの読み取りについては、大問 2～4 の各大問の中に含めることとします。

以上

大問2【地理分野】

次の地図を見て、あとの各問いに答えなさい。

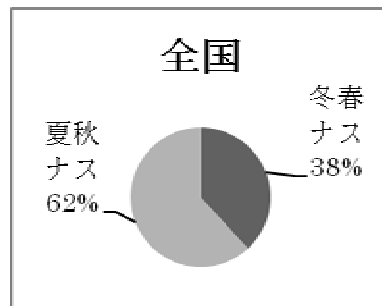
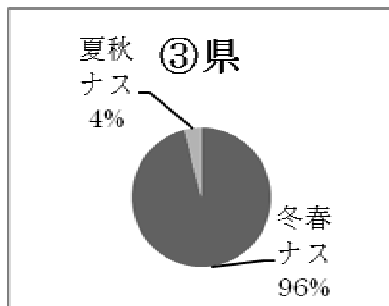


(1) 地図中の ① 県には、世界遺産に指定されているところが2か所あります。 ① 県にある世界遺産を、次のア～オから2つ選び、記号で答えなさい。

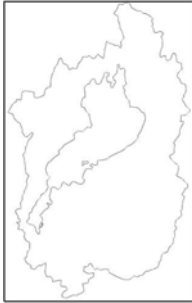
- | | | |
|-----------------------------|-----------------------------|-----------------------------|
| ア <small>いわみ</small> 石見銀山 | イ <small>いずも</small> 出雲大社 | ウ <small>いつくしま</small> 厳島神社 |
| エ <small>あきよしだい</small> 秋吉台 | オ <small>げんぱく</small> 原爆ドーム | |

(2) 地図中の ② 海の周辺には、造船業や重化学工業などが発達している工業地域が広がっています。この工業地域名を答えなさい。

(3) 次のグラフは、地図中の ③ 県と全国の、冬春ナス（冬から春にとれる）と夏秋ナス（夏から秋にとれる）の生産割合を表したものです。なぜ、 ③ 県は寒い冬や春にナスを出荷することができるのか、簡単に説明しなさい。



日本の都道府県を表す略地図 ~ を見て、あとの表を完成させなさい。(縮尺はそれぞれ異なる。)



略地図	都道府県名	都道府県庁所在地	特ちょう
	滋賀県	(ア)	日本一大きな湖の琵琶湖 <small>びわこ</small> がある
	(イ)	(ウ)	トキがいる佐渡島 <small>さどがしま</small> がある
	(エ)	(オ)	茶の生産量が全国の約4割を占める <small>し</small>

【大問2（地理分野）の方針】

では、日本の地域から1つを取り上げて、その地域の地形、気候、産業（農業・工業・水産業）、文化を中心に出題します。

では、都道府県について出題します。各都道府県の形や県庁所在地、地形・気候・主な産業などの特徴を、おさえておきましょう。

大問3【歴史分野】

次の文を読んで、あとの各問いに答えなさい。

794年、桓武天皇が都を山城国（現在の京都府）の平安京に移しました。朝廷では貴族を中心とした政治がおこなわれました。特に 中臣鎌足の子孫である（ ）は自分の娘を次々と天皇に嫁がせるなどして、大きな力を持ちました。また、この時代、紫式部など朝廷に仕える女性が書いた文学作品がたくさん生まれ、日本の文化が花開きました。

(1) 下線部 について、この人物は大化の改新の中心となった人物です。この人物とともに大化の改新の中心になった人物を、次のア～エから1つ選び、記号で答えなさい。




ア 聖徳太子 イ 中大兄皇子 ウ 聖武天皇 エ 卑弥呼

(2) （ ）にあてはまる人名を漢字で答えなさい。

(3) 下線部 について、この人物が書いた文学作品を、次のア～エから1つ選び、記号で答えなさい。

ア 源氏物語 イ 平家物語 ウ 枕草子 エ 竹取物語

次の表を完成させなさい。

			
作品・資料名	(ア)	(イ)	解体新書
関係のある人物		足利義政	(ウ)・前野良沢
時 代	縄文時代	(エ)時代	江戸時代

【大問3（歴史分野）の方針】

では、日本の歴史について、ある時代を取り上げ、その時代の政治・経済・文化・国際関係を中心に出題します。

では、写真や絵を取り上げ、その資料名や関係する人物などを問います。教科書などにのっている写真や絵を、しっかりと見ておきましょう。

次の問いに答えなさい。

- (5) 裁判員^{さいばん}制度とは、どのような制度ですか。簡単に説明しなさい。

【大問 4（公民分野）の方針】

では、日本の政治の基本的な枠組みとなる、地方自治や日本国憲法、国会・内閣・裁判所などに関する知識・理解を中心に問います。

では、時事的な内容を含む問題を出題します。世の中で起こっているできごとへの関心をもち、普段から新聞やテレビのニュースなどに目を向けておきましょう。